

平成30年度
入学試験問題
(第1回一般入試)

社会



立正大学付属
立正高等学校

平成30年度 立正大学付属立正高等学校入学試験問題 社会 (第1回) [解答用紙]

1

問1	①	
	②	
問2	③	
	④	
	⑤	
問3		
問4		
問5		
問6		
問7		
問8		
問9	①	
	②	

2

問1	(1)	
	(2)	
	(3)	
	(4)	
問2		
問3		
問4	③	
	④	
問5		
問6		
問7		
問8		
問9		
問10		

問5	[a]	
	[b]	
	[c]	
問6	長所	
	短所	
問7	(1)	
	(2)	
問8		
問9	(1)	
	(2)	

	③	
問10	A	
	B	
	C	
問11		
問12		
問13		
問14	A	
	B	

3

問1		
問2	(1)	
	(2)	
問3		
問4		

問10	
問11	
問12	

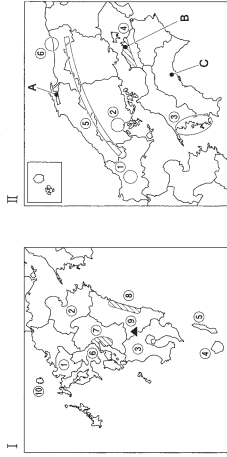
受験番号

氏名

得点

平成30年度 立正大学付属立正高等学校入学試験問題 社会 (第1回)

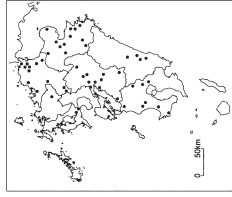
1 下記の図は、九州・中国・四国地方の図である。以下の各問に答えなさい。



(図1を見て)

- 問1. 図中の①～③の都道府県名を漢字で答えなさい。
- 問2. 図中の④・⑤の島の名称を漢字で答えなさい。
- 問3. 図中⑥の海で、全国有数の養殖されている海産物名を答えなさい。
- 問4. 図中⑦の平野では、たまための原料となる農作物の栽培が盛んである。この農作物名を答えなさい。
- 問5. 図中⑧の平野で盛んな野菜の早作りを何というか、答えなさい。
- 問6. 図中⑨の山は2017年10月11日に6年ぶりに噴火した。この山の名称を漢字で答えなさい。
- 問7. 図中⑩の島は2017年7月に世界文化遺産に登録された一部である。この島の名称を漢字で答えなさい。

問8. 下記の図中●は精密機械工業の発達している場所を表しているが、この場所は飛行場周辺である共通点がある。この工業がなぜ飛行場周辺に発達するのかを説明しなさい。

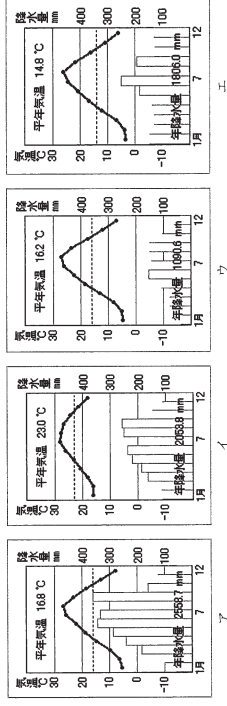


(図2を見て)

問9. 図中の①～③の地形名称を下記の文章を参考にそれぞれ答えなさい。

- ① 石灰岩からなる土壌が広がり、雨水などで溶かされ鍾乳洞(しょうにゅうどう)やくほなどの地形がみられる。
- ② 河川によって運ばれた砂や粘土が河口付近に堆積してつくられる低平な地形。
- ③ 起伏の大きな山場が後面下に沈んでできた海岸地形。

問10. 図中A～Cで示した3つの都市の雨温図として、正しいものを下記の語群よりそれぞれ選び、記号で答えなさい。



問11. 図中④の平野について、下記の地形図を見て、この地域で農業を行う上で、どのような工夫がされているか、下記の語句を用いて、説明しなさい。

【 降水量 ため池 農業用水 】



(国土院発行 25千分の地形図(土地利用別))

問12. 図中⑤山地の多くの地域では人口が減少して、社会生活を送るのが困難になっている地域もあるが、このような状態を何というか。漢字2文字で答えなさい。

問13. 図中⑥には砂丘が見られる。この砂丘では現在、乾燥地帯での農業開発が進められるように様々な実験施設が存在する。実際にこの地域で研修施設が行われていない作物を下記の語群より選び、記号で答えなさい。

ア. らっきょう イ. おとうろ ウ. みかん エ. 長芋

問14. 瀬戸内工業地域の特徴は、「化学工業」の割合が高いことが挙げられるが、その説明として、下記の文章の空欄に当てはまる語句をそれぞれ答えなさい。

「瀬戸内海沿岸には、かつてその地域で栄えた(A)の跡地があったこと、海を(B)してその上地を工業用地などすることで、発達してきた。」

品名	単位	数量	単価	金額
中華	546kg	101	5.24	529.24
豚肉	317kg	10	21.4	214.00
鶏肉	310kg	5	63.0	315.00
鴨肉	282kg	11.9	23.6	280.94
京浜	16.1kg	8.3	19.4	161.32
東海	13.0kg	8.3	15.6	129.48
京浜	13.0kg	11.2	45.4	508.48
合計				1,809.46

【2014年】

② 次の文章を読み、各問に答えなさい。

①開港後は軍艦を常駐させようとする外国の動きをかて、朝廷をお立てで外国の勢力を打ち払おうとする③そのうじょうじ運動がさかんになりました。その中心となったのが④薩摩藩、④長州藩、④長門藩、④長門藩は、外国艦を攻撃したうえ、そのうじょうじ運動の力を強めようと京都へ攻め上って戦いをおこしたため、⑥幕府は長州藩を攻撃しました。一方で、外国の軍艦の強さを見て、開国が避けられないことを自覚した人々は、幕府をたおして、天皇中心の新しい政府をつくる気持ちは強めていきました。薩摩藩の西郷隆盛らは、土佐藩の(1)らの仲立ちで、長州藩と(2)を結びました。幕府は、長州藩を再び攻めましたが、洋式の軍艦をもつ長州藩に苦戦し、やられました。

開国後、生活用品の不足や備上がりのために、質に入れた品物や土地を取りもとせずに生活にいきまづまざる者が増え、民衆は不満を強めました。そのため、貧困からの解放と救済をめざす(3)を強く求めるようになりました。借金、金の根絶、物価の値下げ、米や金銭の提供、耕地の返還などを要求する(3)一揆が各地でおこりました。新しい世の中への期待と不安で、民衆が「(4)」とおどろきまわらざる願きもおこりました。このような民衆の動きは、幕府の権威を大きくゆるがしました。

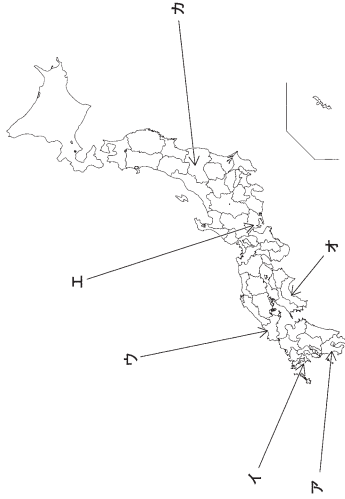
1867年、15代将軍徳川慶喜は、ついに⑦政権を朝廷に返しました。そして王政復古が宣言され、⑧新政府が生まれました。しかし、慶喜は新政府への参加をゆるされないことを不満に思い、⑨島原・伏見で新政府軍と戦いましたが、やぶられました。

問1. 空欄(1)～(4)に最も適した語句を答えなさい。

問2. 下線部①について、日米修好通商条約で5つの港の開港が決まった。箱(函)館、長崎、兵庫とのこり2カ所を漢字で答えなさい。

問3. 下線部②について、「そのうじょうじ」を漢字で答えなさい。

問4. 下線部③④について、それぞれの所在地を記号から選びなさい。



問5. 下線部⑤について、長州藩は報復として外国の運命艦隊から攻撃された。写真の砲台がある場所を漢字2文字で答えなさい。



問6. 下線部⑥について、次のA～Dは江戸時代におきた出来事について述べたものから順に記号を並べたものをア～エから1つ選びなさい。

- A. 公事方御定書を制定し、裁判や刑に基準を明確にしたことで公正な裁判ができるようになりました。
- B. 老中田沼重次は、商工業者の株仲間から営業権を取り、長崎での貿易拡大をはかりました。
- C. 天草四郎を中心にキリスト教の禁止と重い年貢に反対する大規模な一揆がおこりました。
- D. 新井白石は、財政を立て直すために、貨幣の質を向上させ、金銀の海外輸出をおさえるために貿易量を制限しました。

7. D→A→C→B 4. D→C→A→B 5. C→D→B→A 6. C→D→A→B

問7. 下線部⑦について、このことを何というか、漢字で答えなさい。

問8. 下線部⑧について、新政府が行った政策として、誤っているものを1つ選びなさい。










- 7. 明治天皇は神々に誓う形で五箇条の御誓文を出し、新しい政治の方針を示した。
- 4. 五條の指示によって、キリスト教を禁止した。
- 5. 諸大名から領地と領民を天皇に返させた。
- 6. 強い軍隊をつくることなどの方針をたてて18歳以上の男子は兵役につくことを義務づけた。

問9. 下線部⑨について、1868年からはじまり、箱(函)館まで続いた戦いを何というか。漢字で答えなさい。

問10. 問9について、下の絵は西部隆盛とある人物の話し合いが行われ、この結果江戸城総攻撃が中止となり、平和的に明け渡されました。この時の幕府側の代表は誰か。漢字で答えなさい。



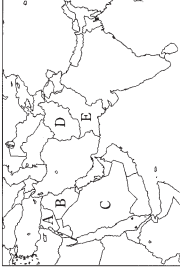
③ 近年のわが国の内閣総理大臣と、在任期間中の主なできごとについてまとめた次の表を見て、後の各問に答えなさい。

任期	総理大臣	主 な で き ご と
1 2000/4/5 ～ 2001/4/26		・九州・沖縄サミット ・中央省庁再編……………①
2 2001/4/26 ～ 2006/9/26		・アメリカ同時多発テロ、テロ対策特別措置法……………② ・サカドカドカドアップ日韓扶植 ・日朝首脳会談……………③ ・イラク戦争 ・衆議院解散（郵政解散）……………④ ・教育基本法改正 ・国民投票法……………⑤
3 2006/9/26 ～ 2007/9/26		・後期高齢者医療制度スタート ・ねじれ国会……………⑥
4 2007/9/26 ～ 2008/9/24		・世界金融危機……………⑦ ・裁判員制度スタート……………⑧ ・新型インフルエンザの流行
5 2008/9/16 ～ 2009/9/16		・政権交代……………⑨ ・普天間飛行場の移設問題 ・子ども手当の創設 ・高校授業料の原則無料化
6 2009/9/16 ～ 2010/6/8		・尖閣諸島中国漁船衝突事件 ・東日本大震災と福島原発事故
7 2010/6/8 ～ 2011/9/7		・「あ」交渉への参加表明……………⑩ ・消費増税増税を決定 ・尖閣諸島の国有化 ・定額削減を野党と約束し衆議院を解散
8 2011/9/7 ～ 2012/12/26		・アベノミクス ・特定秘密保護法 ・「い」行院の憲法解釈変更……………⑪ ・伊勢志摩サミット、オバマ大統領の「う」訪問……………⑫ ・安全確保関連法
9 2012/12/26 ～		

問1. 表中⑩に関連して、このようなかきごとの背景には、政府の仕事なるべく減らし、民間企業や地方自治体へ仕事を任せることで政府の無駄を無くしようとする考え方があります。このように、政府の仕事なるべく少ないものにしてしようとする考え方を何と云うか。[○○○政府]という形で答えなさい。

問2. 表中⑤に関連して、次の各問に答えなさい。

- (1) このテロの首謀者がかくまわれているとして、アメリカ合衆国の主導により戦争が行われた国を、下の地図のA～Eのうちから選び、記号で答えなさい。
 (2) 上記の国名を答えなさい。



問3. 表中③に関連して、この会談で北朝鮮の金正日総書記（当時）は、初めて公式にその責任を認めた。日本政府が認定しているだけでも何と云うか。漢字で答えなさい。

問4. 表中④に関連して、次の表は2005年以後2014年までの衆議院小選挙区での第一党の得票率と議席占有率を表している。この表から読み取れる小選挙区制度の特徴を簡単に答えなさい。

年	小選挙区での第一党の得票率	第一党の議席占有率
2005	48%	73%
2009	47%	73%
2012	43%	79%
2014	48%	76%

[2014/12/15日本経済新聞より]

問5. 表中⑤に関連して、憲法改正について定めた、次の日本国憲法第96条の [a] ～ [c] に当てはまる語を、下のア～クのうちから一つずつ選び、それぞれ記号で答えなさい。

第96条 この憲法の改正は、各議院の [a] の三分の二以上の賛成で、 [b] が、これを発議し、国民に提案してその承認を要しなければならない。この承認には、特別の国民投票又は国会の定める選挙の際行はれる投票において、その [c] の賛成を必要とする。

- ア. 四分の三以上 イ. 内閣 ウ. 過半数 エ. 三分の二以上
 オ. 四分の三以上 カ. 国民 キ. 総議員 ク. 出席議員

問6. 表中⑥に関連して、「ねじれ国会」とは衆議院と参議院で多数派の政党が異なる状況のことをいう。この「ねじれ国会」について、長所と短所をそれぞれ簡潔に答えなさい。

- 問7. 表中⑦に関連して、次の各問に答えなさい。
 (1) この金融危機はアメリカの住所得者の住むローソンの返済が滞ったことから始まった。この危機は経営続たんしたアメリカの金融機関の名前から「○○○○・ショック」と呼ばれている。空欄に当てはまる語を答えなさい。
 (2) この金融危機の深刻さを受けて、2008年の秋から首脳会談が行われるようになった。新四国も含めたこの会合を何と云いますか。（略称可）。

問8. 表中⑧に関連して、裁判員制度に関する記述として正しいものを、次のア～エのうちから一つ選び、記分で答えなさい。

ア. 原則裁判員6名と裁判官3名の合議によって、有罪か無罪かの判断を多数決で行い、有罪の場合には裁判官が量刑を判断する。

イ. 人々が利用しやすい司法制度を実現するための司法制度改革の中で導入され、すべての裁判の第一審で行われている。

ウ. 対象となるのは、殺人や強姦致死傷などの重大な犯罪の刑事事件の第一審のみで、第二審からは裁判員は参加しない。

エ. 裁判員は満18歳以上の国民の中から、くじなどによって選ばれるが、重い病氣や家族の介護などの場合を除いて辞退はできない。

問9. 表中⑨に関連して、次の各問に答えなさい。

(1) この時に無議院第一党となった政党を漢字で答えなさい。

(2) 当時この政党の代表で、総理大臣となった表中6の人物の氏名を漢字で答えなさい。

問10. 表中⑩に関連して、[あ] に当てはまる「環太平洋経済連携協定」などと訳される、この協定のアルファベットの略称を3字で答えなさい。

問11. 表中⑪に関連して、[い] に当てはまる、同盟国への攻撃を自国に対するものと見なし、共同で反撃に出る権利のことを何というか。漢字で答えなさい。

問12. 表中⑫に関連して、[う] に当てはまる、オバマ大統領が現職のアメリカ大統領として初めて訪ね献花をした都市名を漢字で答えなさい。